



Место для шифра

**Всероссийская олимпиада школьников по ОБЗР, 2025-2026 учебный год**

**Школьный этап. 7 класс**

**Теоретический тур в тестах. (Максимальное количество баллов – 50)**


Выберите только один ответ. Выбранный вариант ответа обведите кружком. За правильный ответ начисляется **2 балла**. Исправления не допускаются!

№ п/п	Вопросы и варианты ответов	Кол-во баллов
1.	<b>Какая погода характерна в зоне действия циклона:</b> А) ветреная, пасмурная, с выпадением осадков Б) малооблачная, без осадков, возможны небольшие ветра В) циклоны не влияют на характер погоды	
2.	<b>День спасателя Российской Федерации отмечается:</b> А) 23 февраля      Б) 30 апреля      В) 4 октября      Г) 27 декабря	
3.	<b>Горная болезнь может развиваться у человека в результате:</b> А) кислородного голодания      Б) солнечной радиации В) попадания в организм бактерий, содержащихся в горном воздухе	
4.	<b>На какой картинке изображен катамаран?</b>  <div style="display: flex; justify-content: space-around; margin-top: 10px;"> <span>А)</span> <span>Б)</span> <span>В)</span> </div>	
5.	<b>Обеззараживание воды в полевых условиях осуществляется:</b> А) фильтрованием      Б) отстаиванием      В) кипячением	
6.	<b>Какая повязка используется для остановки кровотечения?</b> А) укрепляющая      Б) иммобилизирующая      В) давящая      Г) герметизирующая	
7.	<b>Оказание первой помощи необходимо начинать с</b> А) вызова скорой медицинской помощи Б) определения признаков жизни у пострадавшего В) оценки обстановки и обеспечения безопасных условий для её оказания Г) выяснения обстоятельств травмы	
8.	<b>На какой картинке изображен «СТОП – КРАН»?</b>  <div style="display: flex; justify-content: space-around; margin-top: 10px;"> <span>А)</span> <span>Б)</span> <span>В)</span> </div>	
9.	<b>При аварийной посадке самолета надо:</b> А) надеть спасательный жилет, руками упереться в спинку переднего сиденья, а голову зажать между коленями Б) надеть кислородную маску, руки сложить на животе, согнуться и поджать ноги В) согнуться, наклонить голову как можно ниже и прикрыть руками, упереться ногами в спинку переднего сиденья	
10.	<b>Вы вынуждены покинуть тонущее в море судно. Ваши действия:</b> А) спуститься в свою каюту и ждать прихода аварийной команды корабля; Б) выяснить у капитана причину происшедшего, надеть спасательный жилет, прыгнуть за борт и плыть к ближайшей лодке; В) одеться, положить деньги и документы в полиэтиленовый пакет и убрать его в карман, надеть спасательный жилет, выполнять все указания членов экипажа корабля, спуститься в спасательный плот.	

**Задания с выбором нескольких вариантов ответов.**






Выбранный вариант ответа обведите кружком

За каждый правильный ответ - **2 балла**, если среди выбранных ответов указан хотя бы один неправильный – за этот вопрос выставляется **0 баллов**.

№ п/п	Вопросы и варианты ответов	Максимальный балл	Фактический балл
1	Из каких знаков международной кодовой таблицы можно составить фразу: «Нужны вода, пища, карта и компас» А)  Б)  В)  Г) <b>F</b> Д) <b>Y</b> Е) <b>W</b>	4	
2	Укажите номера для вызова скорой медицинской помощи с сотового телефона А) 03 Б) 102 В) 112 Г) 103 Д) 04	4	
3	Какие типы костров можно использовать, как ночные? А) «Шалаш» Б) «Нодья» В) «Камин» Г) «Колодец» Д) «Звезда»	6	
4	Какие насекомые могут быть переносчиками инфекционных болезней? А) комары Б) пчелы В) клещи Г) шмели Д) осы Е) мухи	6	
5	Какие уровни террористической опасности существуют? А) повседневный («белый») Б) повышенный ("синий"); В) высокий ("желтый"); Г) критический ("красный"). Д) особо высокий («черный»)	6	
6	Какие признаки характерны для ожога второй степени? А) отёк, покраснение Б) наличие пузырей с прозрачным содержимым В) отсутствие чувствительности в месте повреждения Г) обугливание кожи и подкожной клетчатки Д) обугливание мягких тканей и частично костей	4	
	<b>ВСЕГО ЗА ТЕСТОВУЮ ЧАСТЬ</b>		

**Теоретический тур в вопросах**

**Задание 1** Установите соответствие между изображением дорожного знака и его наименованием. Ответ выберите из предложенных вариантов и запишите его в таблицу в виде буквенного обозначения.

Дорожный знак					
Значение дорожного знака					

### Значение дорожного знака (возможные варианты)

- А) «Стоянка велосипедов запрещена»
- Б) «Стоянка запрещена»
- В) «Велосипедная дорожка или полоса»
- Г) «Движение на велосипедах запрещено»
- Д) «Движение запрещено»
- Е) «Конец велосипедной дорожки или полосы»
- Ж) «Въезд запрещён»
- З) «Место отдыха»
- И) «Кемпинг»
- К) «Остановка запрещена»

Оценочные баллы: **максимальный** – 10 баллов, **фактический** \_\_\_\_\_

**Задание 2** В каждой строке впишите оболочку Земли (там, где это необходимо) в которой возникает определенная группа природных явлений и приведите хотя бы один пример природных явлений, соответствующий указанной группе.

Оболочка Земли	Группа природных явлений	Примеры
	Геофизические	
	Геологические	
	Метеорологические	
	Гидрологические	
	Морские гидрологические	
	Природные	
	Биолого-социальные	
	Космические	

Оценочные баллы: **максимальный** – 10 баллов, **фактический** \_\_\_\_\_ баллов

### Практический тур

**Задание №1** Разработайте памятку по подготовке к эвакуации (не менее, чем из пяти пунктов).

---

---

---

---

---

---

---

---

---

---

Оценочные баллы: **максимальный** – 10 баллов, **фактический** \_\_\_\_\_ баллов

**Задание №2** Во время отдыха на озере, на которое вы приехали на своем автомобиле вы определили, что на Вас надвигается гроза.

**Запишите по каким признакам можно определить приближение грозы и что вы должны сделать, чтобы снизить риск для своей жизни и здоровья**



### Признаки приближения грозы \_\_\_\_\_

*Ваши действия по обеспечению личной безопасности*

Оценочные баллы: **максимальный** – 20 баллов, **фактический**      баллов

### Количество баллов за практический тур